




آزمون عملکردی پودمان شطرنج

رشته: تربیت بدنی / پایه دهم تربیت بدنی



گروه تربیت بدنی استان آذربایجان شرقی

ردیف	سوال
۱	یک صفحه شطرنج استاندارد ترسیم کنید و بر روی آن ستون، عرض و قطر را مشخص نمایید.
۲	حرکات زیر را ثبت کنید. الف) پیاده از خانه b3 به خانه b4 می‌رود. ب) پیاده خانه d5 پیاده خانه e5 را می‌زند. ج) شاه قلعه کوچک انجام می‌شود. د) قلعه سفید h3 فیل h8 را می‌زند و شاه را مات می‌کند.

با یک حرکت مات کنید.



با استفاده از تکنیک آچمزی مات کنید



حرکت های گسترشی غلط را نشان دهید.

